

峨眉二中 2018 级高三 11 月考试 文科综合

命题人：黄颖、黄欢、刘梦琴 审题人：沈燕平、辜少林、陈艺

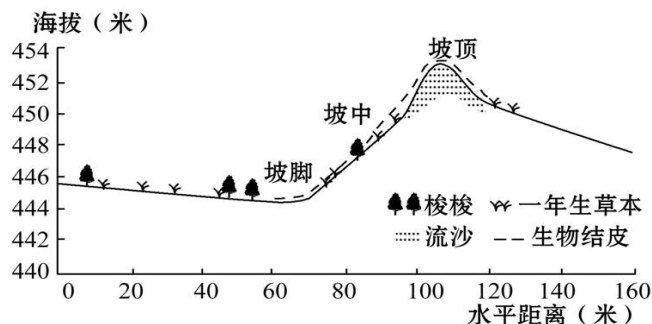
注意事项：

1. 本次考试采用网上阅卷，考后试卷由学生自行保管，答题卡必须按规定上交。
2. 答题前，考生务必在答题卡上将自己的姓名、班级填写清楚。选择题答案进行填涂时请用 2B 铅笔把答题卡上对应的答案标号涂黑，如需改动，用橡皮擦擦干净后，再选涂其他答案，答在试题卷上无效。
3. 主观题作答时，不能超过对应的答题边框，超出指定区域的答案无效。

第 I 卷（选择题 共 140 分）

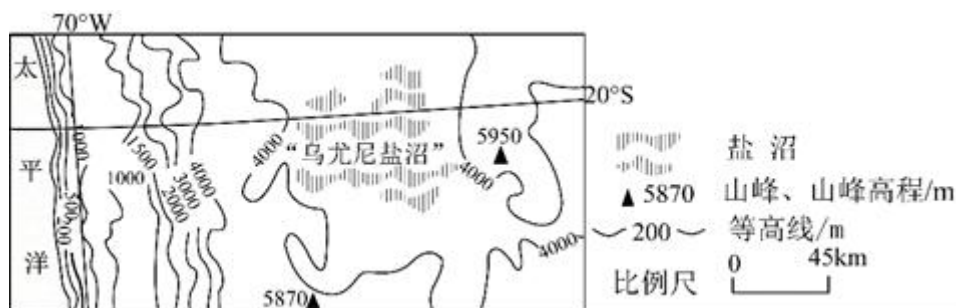
古尔班通古特沙漠位于新疆准噶尔盆地中央，是中国面积最大的固定、半固定沙漠。沙漠中的沙丘顶部多流沙，植被较少，而沙丘底部植被相对丰富。夏季炎热，冬季寒冷，年降水量 70~150mm，主要集中在 5~9 月，年蒸发量 2000mm 以上，冬季一般有 20~30 cm 深的稳定积雪覆盖。下图为沙漠中某沙丘剖面图。据此完成 1-3 题。

1. 沙丘土壤水分最丰富的季节是 ()
A. 春季 B. 夏季 C. 秋季 D. 冬季
2. 沙丘 1~2 m 土层土壤水分含量总体变化规律是 ()
A. 坡顶>坡中>坡脚 B. 坡顶>坡脚>坡中
C. 坡脚>坡中>坡顶 D. 坡中>坡脚>坡顶



3. 位于丘间平地处的梭梭等植被，可以有效地 ()
A. 增加降水，调节气候 B. 涵养水源，增加土壤水分
C. 防风固沙，保护农田 D. 保持水土，减轻洪涝灾害

小明从地图上得知，乌尤尼盐沼（位置见左图）面积超过 1 万平方千米，是世界上面积最大的盐沼。小明查到该盐沼的一幅景观照片（右图）：盐沼表面凝结成无数块多边形，镶拼成一望无际的盐原，在阳光下熠熠闪光。据称这种景观每年都能见到。据此完成 4—6 题。



4. 根据图示信息，该盐沼 ()
①海拔超过 4000 米 ②位于高山间盆地 ③属热带草原气候 ④年内有积水季节
A. ①③ B. ②③ C. ①④ D. ②④

5.小明对该盐沼的形成做了下列推理,其中合理的是()

- A. 海湾——地壳抬升——海水蒸发
B. 湖泊——气候变干——湖水蒸发
C. 地下盐矿——地壳抬升——上覆岩层剥蚀
D. 地下水位上升——气候干燥——地表形成盐壳

6.小明若在1月去该盐沼旅游,需要特别防范()

- A. 暴雪
B. 强风
C. 低温
D. 太阳辐射

锡林河是流经内蒙古自治区东部的一条内流河。流域内多年平均降水量约为300毫米,降水集中在6—8月,4月存在春汛,但伏汛不明显。据此完成7—9题。

7.锡林河春汛最主要的补给水源是()

- A. 地下水
B. 大气降水
C. 冰川融水
D. 冰雪融水

8.锡林河伏汛不明显的主要原因是夏季()

- A. 冻土融化,下渗量大
B. 生活用水量大
C. 植被繁茂,蒸腾量大
D. 生产用水量大

9.该区域典型的自然景观是()

- A. 森林
B. 草原
C. 荒漠
D. 湿地

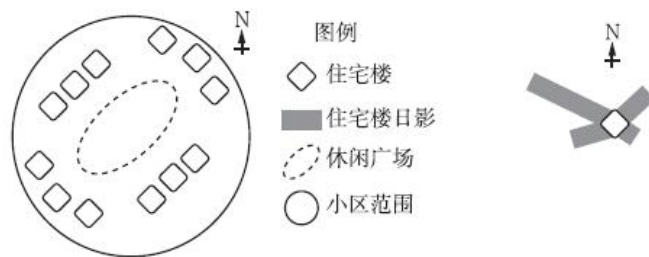
下左图为我国某地一住宅小区示意图,右图中四个方向的阴影分别为小区内某栋住宅楼二至日8:00和16:00的日影。读图文材料,完成10—11题。

10.该小区最可能位于()

- A. 北京
B. 银川
C. 杭州
D. 海口

11.小区内各住宅楼高一致,休闲广场被楼影遮挡面积最大的时段是()

- A. 夏至日8:00~12:00
B. 夏至日12:00~16:00
C. 冬至日8:00~12:00
D. 冬至日12:00~16:00



12.近期,央行数字货币在深圳、雄安、成都、苏州四地试点。央行发行数字货币的目的是替代部分现金货币,该货币是用区块链等技术打造发行的加密货币,具有法偿性(以人民币支付中华人民共和国境内的一切公共的和私人的债务,任何单位和个人不得拒收),在保证交易双方匿名的同时,还要保证反洗钱、反恐怖主义融资、反逃税下列对此理解正确的是:()

- ①央行数字货币交易较现金支付的匿名性有提升
②央行数字货币是以国家信用为担保的法定货币
③使用央行数字货币能消除居民信总安全的风险
④使用央行数字货币有助于提升支付清算的效率

- A. ①②
B. ①③
C. ③④
D. ②④

13.随着人们生活水平的提高,消费过程中更加注重“质感”的倾向越来越突出。一件商品如果只是款式好看或价格便宜,但用料劣质、做工粗糙,是很难让人产生购买欲的。为顺应这种趋势,企业应该()

- ①努力改进生产技术,降低单位商品价值量
②重视商品的使用价值,坚持以质取胜战略
③以市场为导向,满足消费转型升级的需要
④延长价值链,专注高端商品的生产和研发

- A. ①③
B. ①④
C. ②③
D. ②④

14.2020年稳就业任务十分艰巨,全国多地都出台了社保费减免具体落实政策,为企业特别是中小微企业“供氧”“输血”全力稳住就业。据统计,2月份共为企业减免养老、失业、工伤三项社保费单位缴费总共1239亿元,预计2—6月份减免额度将超过5000亿元以上,实际执行的效果可能会超过预期。该政策发挥作用的路径是()

- ①稳定企业用工需求 ②降低企业人力成本 ③保护企业经营积极性
④减轻劳动者负担 ⑤调动劳动者积极性
A. ①→②→③ B. ④→⑤→① C. ②→③→① D. ③→②→①

15.根据预测，到 2020 年，我国的失能老人将达到 4200 万，80 岁以上高龄老人将达到 2900 万，而空巢和独居老年人将达到 1.18 亿。在国家政策的推动下，医养结合、智慧健康养老成为养老产业发展新热点。由此可见（ ）

- ①国家在这些新兴产业的出现过程中起了决定性作用
②新的消费热点是新兴养老产业出现的助推器
③生产和消费相互影响，生产决定消费的质量和水平
④市场经济的健康发展，离不开国家科学的宏观调控

- A. ①③ B. ①④ C. ②③ D. ②④

16.2020 年 4 月 16 日，京沪高铁发布上市后首份年报。2019 年，公司实现营业收入约 329.42 亿元，同比增长 5.72%。国铁企业大力发展混合所有制经济、促进资本结构优化调整、推进铁路高质量发展的具体行动，在我国铁路改革进程中具有标志性意义。由此可见（ ）

- ①混合所有制经济是公有制经济的重要实现形式 ②企业上市就能优化资本结构，扭亏为盈
③“混改”有利于国有资产在社会总资产中占优势 ④国企改革，要面向市场，转换经营机制，建立现代企业制度

- A. ①④ B. ①③ C. ②③ D. ②④

17.“可转换公司债券”是上市公司发行的一种含权债券。在债券状态下，利息比普通债券低，但此投资可除了拥有债权之外，还拥有转股权，即购买人可自主选择在规定时间内将其购买的债券以事先约定的转股价格转换成指定公司的股票。由此可见（ ）

- ①投资者可同时享有债券收益和股票收益 ②企业发行“可转换债券”，有利于降低其融资成本
③若“可转换债券”转换成股票，可以降低投资者的投资风险④若“可转换债券”转换成股票，投资者由债权人转变为公司的股东

- A. ①③ B. ②③ C. ①④ D. ②④

18.近年来，某县非公企业开展爱心捐助等社会公益活动 60 场次，累计捐款捐物 1 800 多万元，有效助力精准扶贫工作的开展。新冠肺炎疫情期间，该县非公企业累计捐款捐物 1200 多万元。可见，非公经济（ ）

- ①与公有制经济的地位和作用是相同的 ②在我国经济社会发展中发挥着重要作用
③是促进我国社会和谐发展的重要力量 ④已成为我国精准扶贫和战胜疫情的关键

- A. ①② B. ①④ C. ②③ D. ③④

19.党的十九届四中全会首次提出“要重视发挥第三次分配作用，发展慈善等社会公益事业”。第三次分配是在道德、文化、习惯等影响下，社会力量自愿通过民间捐赠慈善事业志愿行动等方式济困扶弱的行为，是对再分配的有益补充。下列情况属于第三次分配的是（ ）

- A. 为修建村老人活动场所，村委会向政府申请获得财政专项拨款
B. 某乡发动乡贤集资，帮助贫困户进行危房改造
C. 按政策要求，某私营企业向税务部门缴纳足额的教育费附加
D. 按绿色发展理念的要求，某企业增加投资，改造升级排污系统

20.2020 年中国为对冲经济下行压力，发行 1 万亿元抗疫特别国债。国家发行特别国债对我国经济有调节作用，其传导过程是（ ）

- ①社会消费总需求增加，有利于扩大内需
- ②劳动者收入增加，消费意识增强
- ③为企业复工复产创造有利条件，缓解就业压力
- ④实行积极的财政政策，扩大政府投资，增强市场活力

A. ①—③—②—④ B. ④—③—②—① C. ②—③—①—④ D. ④—①—③—②

21.2020 年 8 月 19 日，“新基建、新联接、新计算”浙江产业数字化峰会暨华为中国生态之行 2020，浙江峰会以“产业数字化转型”为主题，社会各界共同探讨浙江产业结构升级以及行业数字化转型加速。加速产业数字化转型就需要（ ）

- ①尽快确立数字要素按贡献参与分配的制度
- ②用创新发展理念推动经济发展方式的转变
- ③加大对数字经济及其人才培养的财政支持
- ④稳步推进数字基础设施取代传统基础设施

A. ①② B. ①④ C. ②③ D. ③④

22.在现实生活中，不少饭馆为了达到少缴或不缴税款的目的，以饭馆消费已打折为由拒开发票。材料中饭馆的这种行为（ ）

- ①违反税法规定，是一种偷税行为
- ②属于骗税，骗取了国家税收优惠
- ③不利于消费者维权，应严厉打击
- ④涉及逃税，由司法机关追缴税款

A. ①③ B. ①④ C. ②③ D. ②④

23.人与自然的关系问题是我们长期探讨的问题，直接关系到人类自身的命运。后疫情时代，我们也应该从灾难中反思，重新审视人与自然的关系，更坚定地走人与自然和谐共生的道路。这要求我们（ ）

- ①坚持协调发展，促进城乡区域协调发展
- ②学会合理消费，践行绿色低碳生活方式
- ③改变发展基点，努力走可持续发展道路
- ④坚持绿色发展，构建环境友好型的社会

A. ①③ B. ①④ C. ②④ D. ②③

24.夏启发兵讨伐有扈氏，大战于甘。战前，启作《甘誓》，称“有扈氏，威侮五行，怠弃三正。天用剿绝其命，今子惟恭行天之罚。”夏启此举旨在（ ）

- A. 维护君主专制的政治伦理
- B. 强调其统治的合法性和权威性
- C. 宣扬其“敬天保民”的思想
- D. 强化鬼神在人们心中的神秘感

25.下表为《史记》对战国时期相关社会现象的记载。这反映出战国时期（ ）

| 记载 | 出处 |
|---|-----------|
| 宋国一庄姓商人开了酒铺，他“升概甚平”（称酒公平）“遇客甚谨”，还把酒铺招牌挂得很高，以招徕顾客，多做生意 | 《史记·货殖列传》 |
| “楚人有卖其珠于郑者，为木兰之柜，薰以桂椒，缀以珠玉，饰以玫瑰，辑以翡翠” | 《史记·田单列传》 |

- A. 商贩注重市场营销的技巧
- B. 长途贩运贸易得到发展
- C. 商业受抑制的境况被改变
- D. 经商理念源于社会生活

26.有学者指出，门阀士族在汉末大乱中坚守儒家共同体信念，作为清流而身遭党锢；在五胡进入中原时，携带着先进的文化和技术流入南方；在东晋面临北方强敌时力挽狂澜；在南朝以下勉上的浪潮中致力于重建新朝秩序。该学者意在强调门阀士族（ ）

- A. 为平乱治国作出了突出贡献 B. 在乱世中坚守了自身的责任
C. 维护了儒家学说的独尊地位 D. 推动了江南经济的迅速发展

27.西魏大统十三年（547 年）计帐文书记载，在西魏的均田制下，课税户分为上、中、下三等，调的负担一样，租有所区别，上户一夫一妇纳租四石，下户两石。户内如有丁婢、耕牛，相应增加租调。这反映出西魏统治者推行均田制的根本出发点是（ ）

- A. 调整土地关系 B. 缓和社会矛盾
C. 方便政府征收租调 D. 促进北方各族封建化

28.唐代后期，长安、扬州等商业发达城市中，已出现了许多专营钱币存取与贷出的金融机构柜坊。同时，还出现了由藩镇设在长安的诸道进奏院实行货币汇兑业务。这表明唐代后期（ ）

- A. 重农抑商政策的明显松弛 B. 藩镇割据破坏了经济秩序
C. 国家金融制度在创新发展 D. 社会商业信用在逐步形成

29.王守仁认为，人的本心和本性都是天赋的，都是纯粹至善、完美无缺的。只要努力，人人皆可为圣人。这种认识（ ）

- A. 动摇了儒学的正统地位 B. 强化了儒家思想的社会责任担当
C. 挽救了明朝的统治危机 D. 打破了传统上智下愚的等级观念

30.明清启蒙思想家认为义利是统一的，既要讲义，又要讲利，应当在“义中取利”，应当“正其谊（义）以谋其利，明其道而计其功。”这说明明清启蒙思想（ ）

- A. 背离儒家思想 B. 是商品经济发展在思想上的反映
C. 主张经世致用 D. 体现了新兴资产阶级的利益诉求

31.表 2 为 19 世纪 70 年代，清政府开办的部分企业。据此可知，当时（ ）

表 2

| 名称 | 开办年份 | 创办人 | 地点 | 经营方式 |
|---------|--------|---------|----|------|
| 淮军行营制造局 | 1870 年 | 直隶总督李鸿章 | 天津 | 官办 |
| 云南枪炮局 | 1872 年 | 云贵总督王文韶 | 昆明 | 官办 |
| 轮船招商局 | 1873 年 | 直隶总督李鸿章 | 上海 | 官督商办 |
| 台湾基隆煤矿 | 1876 年 | 台湾巡抚沈葆楨 | 基隆 | 官办 |
| 四川机器局 | 1877 年 | 四川总督丁宝桢 | 成都 | 官办 |
| 开平煤矿 | 1878 年 | 直隶总督李鸿章 | 唐山 | 官督商办 |
| 兰州织呢局 | 1879 年 | 陕甘总督左宗棠 | 兰州 | 官办 |

- A. 社会经济结构趋于均衡 B. 中体西用思想有所调整
C. 官办经营方式较为合理 D. 经济近代化的特征突显

32.19 世纪末，中国翻译事业蓬勃发展，表现出前所未有的时代特点，如广译西方书籍，把译书的重点由应用科学转向社会科学和人文科学，要求开辟译书阵地，加快译书的速度和效益，在注重政教翻译的同时，开始顾及小说翻译等，其直接原因是（ ）

- A. 维新变法运动的推动
- B. 清末新政的促使
- C. 民族危机的不断加深
- D. 知识分子的觉醒

33.1919 年 11 月，全国各界联合会在上海成立，发表宣言：“数月以来，国内之群众运动，风起云涌，虽受种种压迫，而前仆后继，不少顾却；大义当前，绝不退让……全国各地，知合群自救为万不可缓之图。”由此可见（ ）

- A. 救亡图存运动开始成为时代主题
- B. 马克思主义得到全国各界认可
- C. 晚清政府外交失败激发群众觉悟
- D. 五四运动具有广泛的群众基础

34.1942 年，中共中央规定：“一期尚未实行减租的地区，其租额照抗战前租额减低百分之二十五”“在游击区及敌占点线附近，可比二五减租还少一点，只减二成，一成五或一成。”这一规定（ ）

- A. 纠正了蒋介石不抵抗政策
- B. 有效抵御了日本的经济侵略
- C. 巩固了抗日民族统一战线
- D. 削弱国民党在国统区的势力

35.据统计，仅 1943 年上半年，《解放日报》上出现的模范人物多达 600 名以上，有关南泥湾和南区合作社的新闻报道达 40 余条。1943 年冬，召开全边区劳动英雄大会，表彰了一批先进人员。这些做法（ ）

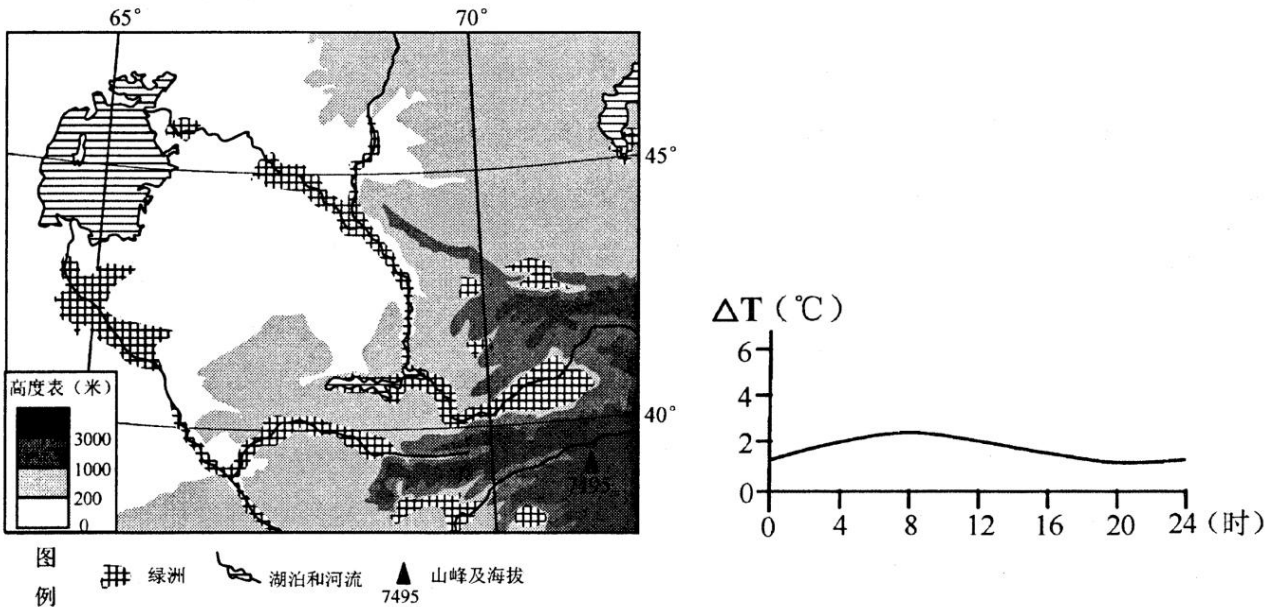
- A. 起到了社会动员的作用
- B. 推动了国民大革命的开展
- C. 巩固了农村革命根据地
- D. 扩大了抗日统一战线阵营

第Ⅱ卷（非选择题 共 160 分）

一、必考题：共 135 分。

36. 阅读图文资料，完成下列要求。（22分）

左图为中亚某地区绿洲分布图，右图为该地区某荒漠与邻近绿洲近地面气温差值（ ΔT ）日变化曲线图。



- (1) 归纳图示区域绿洲分布特点。(4 分)
- (2) 说明绿洲与邻近荒漠之间近地面大气的运动状况，并分析其对绿洲的有利影响。(10 分)
- (3) 在一些较干旱的绿洲，人们常在土壤表面覆盖一层粗砂或砾石。请分析覆盖层的作用。(8 分)

37. 读材料，回答下列问题。(24 分)

材料一：帝王蟹主要分布在寒冷的海域，因其体型巨大而得名，属于深海蟹类，生存深度达 850 米之深，生存水温在 2-5℃，帝王蟹能够生存的最低水温是 1.4 摄氏度。一般来说，帝王蟹的寿命在 30 年左右，每年的四月至六月在大约 350 米远的浅滩产卵，卵的孵化比例大概为 16000/80000 粒。由于它们的体型巨大及肉质美味，很多物种都被广泛捕捉来作为食物。2011 年科学家在位于南极洲近海大陆架下一处泥床盆地发现超过 100 万只巨型帝王蟹。科学家称，这种外来的大型食肉动物的出现，可能是南极海域一场生态浩劫的最初迹象。2014 年，有媒体报道过挪威峡湾中的帝王蟹成灾，现在，帝王蟹的数量已经超过 2000 万只，严重影响当地海域的生态环境。

材料二：下图为挪威的纳维亚半岛简图

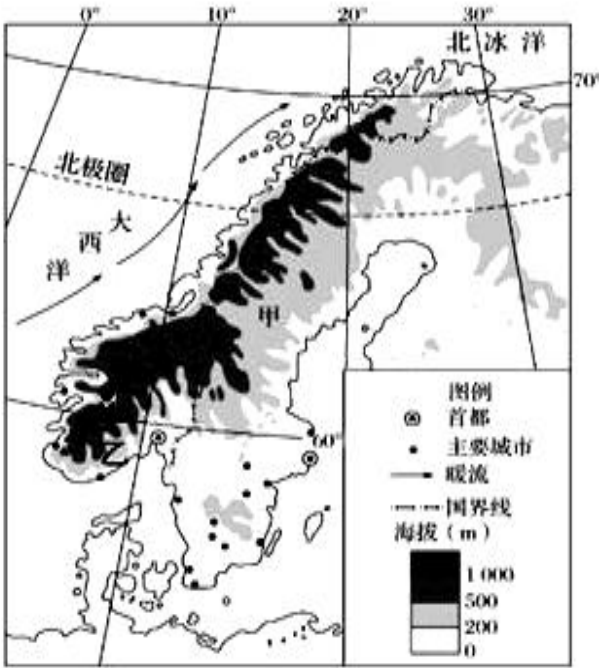
材料三：白令海峡、阿拉斯加海域、挪威巴伦支海、智利海域是帝王蟹的主要产区。我国不产帝王蟹，我国市场上的帝王蟹基本都是来自于俄罗斯白令海和美国阿拉斯加，而从挪威和智利进口极少。帝王蟹的销售方式多样，主要有网上销售和生鲜超市实体店销售。

- (1) 根据材料一和材料二，试分析挪威峡湾适宜帝王蟹生存的原因。(6 分)
- (2) 读材料一，为什么说帝王蟹出现在南极地区对该地可能是一场生态浩劫？(6 分)
- (3) 智利帝王蟹主要产自南极附近海域，据材料三，试分析相对于俄罗斯、美国等国的帝王蟹，我国从智利进口帝王蟹较少的原因。(6 分)
- (4) 指出商家网上销售帝王蟹较实体店销售帝王蟹的优势。(6 分)

38. 阅读材料，回答下列问题。(27 分)

材料一：文旅产业主要由人文旅游资源开发而来，使旅游者获得富有文化内涵和深度参与特点的旅游体验，是典型的人群聚集性产业，极易受到突发事件冲击。由于新冠肺炎疫情造成的影响，据测算，仅在春节假期，文旅企业损失就超过 5000 亿元。因此，文旅企业急需获得相应扶持和救助，提升应对疫情的复苏能力。

政府要为文旅产业复苏增强信心。习近平总书记指出：“要积极推动企事业单位复工复产，对受疫情影响较大企业，要在金融、用工等方面加大支持力度，帮助渡过难关。”同时，文旅企业还需要积极自救，谋划疫后振兴。当下，在防控疫情期间，企业收入来源遭到断流，企业应更加有效地采取节流止损措施，严控内部支出，集中资源保留最有效率和价值的业务。引入大数据、人工智能、AR 等



新技术，推动企业智能化运营。例如，开发“非接触式”产品服务解决方案，如线上博物馆、AR 沉浸式体验等。

疫情对社会造成巨大损失，大众亲身感受到疫情的危害，更多人认识到健康和生命的价值，个人的价值观、生活方式等均会受到影响，消费模式也会随之转变。

(1) 结合材料一，运用经济生活的相关知识，分析文旅企业在疫情结束后如何实现振兴。(15 分)

材料二：营商环境是一座城市重要的软实力和核心竞争力，良好的营商环境不仅是软实力的重要体现，也是推动经济高质量发展的重要保障。

近年来，F 市全力开展优化营商环境三年行动，打造营商环境新高地。积极推动市场准入负面清单制度和“非禁即入”政策的落实；着力推进减税降费，优化纳税服务，支持民营企业发展壮大；立了规模 27.2 亿元的企业技改基金，重点鼓励智能化技改、推动技改项目完工投产等；推行“一企一议”协调服务机制，各级各部门主要领导身体力行通过召开协调会、现场办公等形式，探建解决重点企业疑难问题的“绿色高速通道……多措并举，持续优化营商环境，推动经济高质量发展取得明显成效。

(2) 结合材料二，运用经济生活知识分析该市是如何打造良好的营商环境促进经济高质量发展的。(12 分)

39. 阅读材料，完成下列要求。(25 分)

为缓解疫情造成的经济下行压力，多地为地摊经济松绑，一些人纷纷加入摆摊行列。地摊商业的用户体验就是烟火气。烟火气的支撑是低成本、低准入门槛，没有昂贵的租金。所以，它可以让利给消费者，配合现场体验感，吸客能力超强。烟火气的构成是商品的多元化、丰富性，在地摊上，消费者大都能买到自己称心如意的东西，从而它又能吸引到了更多的消费者前来聚集。地摊经济的发展一度成为实体商家的顾虑，随后，上海、甘肃、杭州、廊坊等城市相继允许有条件的餐厅外摆，让实体商家也成了地摊经济的受益者。

近期，地摊经济被“泼冷水”，多个城市紧急叫停！为什么会“画风”突转。究其原因，地摊经济给城市管理带来诸多问题，如流动摊位的卫生环境无法保障、市场上商贩素质良莠不齐、增加了治理假冒伪劣产品的难度、商贩因摊位抢占引发的矛盾冲突不断上演……如何管理和引导地摊经济，引起社会高度重视。

(1) 结合材料并运用经济生活知识，分析疫情期间为地摊经济松绑带来的积极影响。(10 分)

(2) 结合材料并运用经济生活知识，谈谈国家应如何管理和引导地摊经济。(9 分)

(3) 管理和引导地摊经济，呼吁健康文明的地摊文化。请为宣传地摊文化拟定三条宣传标语。(6 分)

40. 阅读材料，完成下列要求。(25 分)

材料：中国是大豆的故乡，甲骨文中就有关于大豆的记载。先秦时期，大豆栽培主要是在黄河中游地区，“豆饭”是人们的重要食物。《齐民要术》通过总结劳动人民长期的实践经验，认识到大豆对于改良土壤的作用，主张大豆与其他作物轮种。唐宋时期的文献中都有朝廷调集大豆送至南方救灾、备种的记录，大豆的种植推广到江南及岭南……从古至今，各式各样的豆制品是中国人喜爱的食物，提供了人体所需的优质植物蛋白。

1765 年，大豆引入北美，最初作为饲料或绿肥。19 世纪 60 年代，豆腐在美国开始被视为健康食

品。19 世纪末，大豆根瘤的固氮功能被发现，在美国干旱地区推广种植。至 1910 年，美国已经拥有 280 多个大豆品种。1931 年，福特公司从大豆中开发出人造蛋白纤维，大豆成为食品工业、轻工业及医药工业的重要原料。1954 年，美国成为世界上最大的大豆生产国，种植面积超过一亿亩。大豆在南北美洲都得到广泛种植，美洲的农田和中国人的餐桌发生了紧密联系。

——摘编自刘启振等《“一带一路”视域下栽培大豆的起源和传播》等

- (1) 根据材料并结合所学知识，概括我国历史上种植利用大豆的特点和作用。(12 分)
- (2) 根据材料并结合所学知识，说明大豆在美国广泛种植的原因。(8 分)
- (3) 根据材料并结合所学知识，简析物种交流的积极意义。(5 分)

41. 阅读材料，完成下列要求。(12 分)

材料：

| 时间 | 事件 |
|--------|--|
| 1861 年 | 清政府设立“总理各国事务衙门”，这是清政府新设立的主管外交、通商及其他洋务事宜的中央机构。 |
| 1862 年 | 清政府在北京设立专门培养翻译人员的“同文馆”。 |
| 1863 年 | 清政府在上海设立“广方言馆”；第二年又在广州设立一个“广方言馆”。 |
| 1875 年 | 清政府建议在各省设立洋学堂；创立科举考试中“洋务进取”一项。 |
| 1885 年 | 清政府新设立了海军衙门；在天津设陆军武备学堂。 |
| 1895 年 | 甲午战争中国战败，维新变法浪潮激荡全国；清政府批准学堂”（学堂初名“天津北洋西学学堂”），由盛宣怀出任学堂首任督办。 |
| 1898 年 | 百日维新期间，“京师大学堂”（北京大学前身）成立，戊戌政变后继续保留。 |
| 1901 年 | 清廷明令改总理各国事务衙门为外务部，班列六部之上。 |

——据王建朗、黄克武主编《两岸新编中国近代史》等

从材料中提炼出一个观点，并结合所学的中国近代史知识予以说明。（要求观点明确，史论结合，言之成理。）

二、选考题：共 25 分，地理 10 分，历史 15 分。请考生从 2 道地理题和 2 道历史题中分别选一题作答。如果多做，则按所做的第一题计分。

42.【地理——选修 3：旅游地理】(10 分)

2019 年春节期间国内夜间总体消费金额、消费笔数分别达全天消费量的 28.5%、25.7%，游客的夜间消费占比近三成。夜间旅游已成为旅游目的地夜间消费市场的重要组成部分，众多城市都已将“夜游”作为旅游发展的重点之一。

简述发展夜间旅游对城市旅游业的意义以及需采取的相关措施。

43.【地理——选修 6：环境保护】(10 分)

黄河三角洲为典型的滨海盐碱地，具有含盐度高、肥力低、透气性差、板结现象严重等特点。1980 年初，黄河三角洲地区开始大规模营造人工林和种植耐盐植物，提高植被覆盖率，对滨海盐碱地起到了很好的改良作用。

简述黄河三角洲盐碱地众多的自然原因以及植被对盐碱地的改良作用。

44.【历史——选修 1：历史上重大改革回眸】(15 分)

材料：710 年，唐睿宗李旦登基，改年号为“景云”。其时，吐蕃、突厥、契丹等与唐关系紧张，以前采取的临时任命将领率兵出征的办法，已难以应对边境危机。景云二年，唐朝派出河西节度使，募集军队，驻守河西走廊，“自此始有节度之号”。同年，改变以前朝廷临时遣使分“道”巡察地方的办法，设置十三道按察使，驻地相对固定，大多由所在地行政长官兼任，代表朝廷纠举、处理所在道的州、县官员违法乱纪行为，“风俗一变”。712 年，唐玄宗正式即位，随后十余年间，节度使制度在边境地区广泛推行，十三道增为十五道。这些制度成为“开元盛世”的重要保证，也给唐玄宗晚年的政治动荡埋下了隐患。

——摘编自白钢主编《中国政治制度通史》等

(1) 根据材料，说明唐代景云年间改革的目的。(6 分)

(2) 根据材料并结合所学知识，简析唐代景云年间改革的影响。(9 分)

45.【历史——选修 4：中外历史人物评说】(15 分)

材料：北宋文学家苏轼(1037~1101)，也是北宋时期儒学的代表人物。他的儒学著述之功，主要凝聚于《易传》《书传》《论语说》三部著作。《书传》完全撰写于海南儋州，其他两部也是在儋州最终修订完成。苏轼在儋州创作的诗词、赋、杂记等各类诗文作品，记录了自己的生活经历、内心情感，以及海南岛的自然风光和风土民情。在海南期间，虽然受制于诸多条件，苏轼仍“不免时时弄笔翰”。现存于台北“故宫博物院”的《渡海帖》，是苏轼在海南时期书法作品中唯一的存世墨迹。苏轼之前，虽有来自中原的有识之士在海南提倡文化教育，但无实质性的效果。苏轼居儋期间，大力传播中原文化，推行教育，在其身边聚集了一批好学青年，尤其是琼州学子姜唐佐，专程至儋州向苏轼求学。临别时，苏轼写诗赠云：“沧海何曾断地脉，白袍端合破天荒。”鼓励他说：“子异日登科，当为子成此篇。”后来，姜唐佐果然中举，改写了在此之前海南岛从来没有本土籍举人的历史。

——摘编自李景新《论苏东坡的海南功业》等

(1) 根据材料，概括苏轼在海南的主要业绩。(9 分)

(2) 根据材料并结合所学知识，说明苏轼对宋词的突出贡献。(6 分)